

Teil 1

Die Tasten und ihre Namen

Vom Alphabet : A B C D E F G H I J K L M N O P Q R S T U V W X Y Z
 zu den Tastennamen: C D E F G A H C D E F G A H C D E F G A H C D E F G A H C



1 a) Trage alle "c" auf...



b) Wieviele
3er Gruppen

c) Wieviele
3er Gruppen



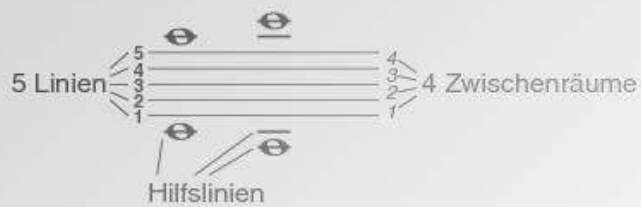
d) Wieviele
3er Gruppen

e) Wieviele
3er Gruppen

2 Trage die Tastennamen ein.



Das Notenliniensystem



Noten auf den Linien



Noten in den Zwischenräumen



Linien und Zwischenräume werden von unten nach oben gezählt.


- 3 Schreibe auf jede Linie eine Note.



- 4 Schreibe in jeden Zwischenraum eine Note.

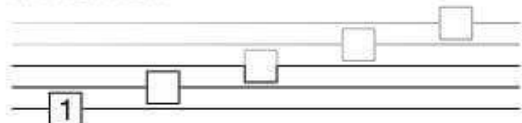


Schreibe eine Note auf der Hilfslinie dreimal.

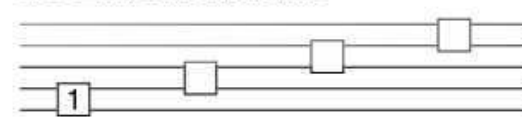


- 6 Nummeriere:

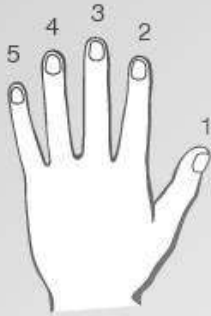
die Linien



die Zwischenräume



Die Nummerierung der Finger



Linke Hand

1. Daumen
2. Zeigefinger
3. Mittelfinger
4. Ringfinger
5. Kleiner Finger



Rechte Hand

Der Violinschlüssel

Der Violinschlüssel ist ein C-Schlüssel.
Er zeigt an, dass die Note der 2. Linie ist.

7 Male Violinschlüssel fünfmal.

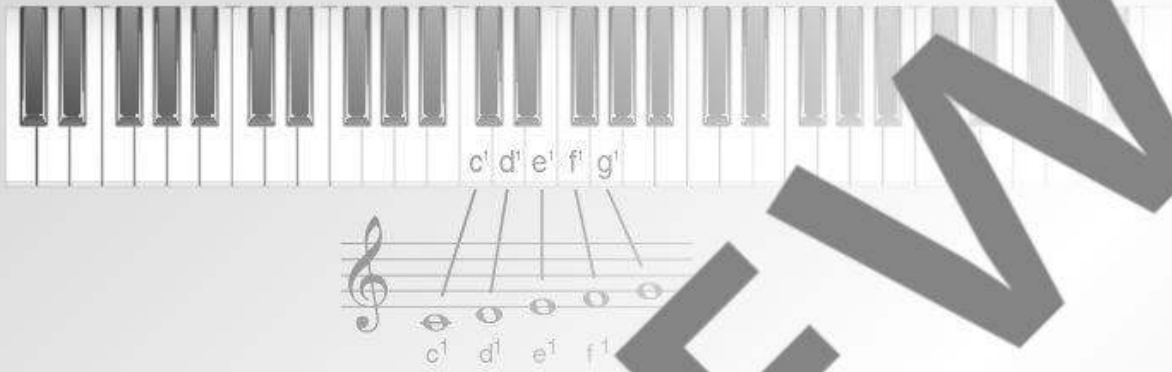


8 Nummeriere die Finger.



Die Noten im Violinschlüssel

Fünf-Finger-Lage auf c^1



9 Wie heißen die Noten?



10 Schreibe die Namen der Note über den Notennamen.



Die Noten im Violinschlüssel

Fünf-Finger-Lage auf c^2



11 Wie heißen die Noten?



12 Schreibe die Namen der Note über der Note über den Notennamen.

